


# 筆記試験例題

この例題は、出題する分野のイメージをつかんでいただくためのものです。実際に出題する問題の形式や水準とは異なる場合があります。

筆記試験は  
30分程度。  
別途、面接が  
あります！



## 言語・文章力

次の\_\_\_\_線部の漢字の読みをひらがなで、又カタカナを漢字で書きなさい。

- (1) 遺憾ながら欠席した。                      (2) ユウシュウな成績で卒業する。

はじめに示した語句と反対の意味をもつ語句として最も適切な語句を、1～5の中から1つ選び、番号を書きなさい。

親密 : 1. 希薄      2. 軽薄      3. 安易      4. 軽率      5. 疎遠

次の文章の( )にあてはまる適切な語句を、1～4の中から1つ選び、番号を書きなさい。

経済の雲行きが空恐ろしいほど( )し、大打撃を受けた。

1. 急変    2. 楽観    3. 上昇    4. 好転

## 計算力

次の計算をしなさい。

(1)  $10 \times 8 - 6 \div 3 =$

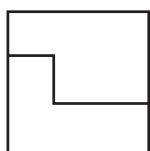
(2)  $\frac{3}{5} \times \frac{1}{2} \div \frac{5}{4} =$

- (3) 1個240円のメロンと1個160円のオレンジを全部で12個買い、3000円を支払ったところ、760円おつりが返ってきた。オレンジを買った個数を答えなさい。

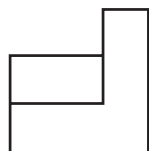
## 形状把握力

次に示す正面図と右側面図をもつ立体図をA～Dから1つ選びなさい。

なお、立体の正面図は矢印から見た図とする。



正面図



右側面図

